
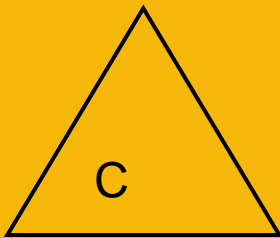



Napiš do sešitu:

Trojúhelníky 12.5.2020

Načrtni si do sešitu následující trojúhelníky a
přiřaď k nim správné názvy:



- rovnoramenný
- rovnostranný
- pravoúhlý
- obecný

Dále do šk.sešitu vypracuj z učebnice:

M/6 3.DÍL,CV.4/40

Napiš do sešitu:

Trojúhelníky 13.5.2020

***Opiš zadání následující úlohy,
nakresli si náčrtky a vypracuj do
sešitu***

Vypočítej velikost třetích vnitřních úhlů trojúhelníku
a rozhodni, jestli jde o trojúhelník
ostroúhlý, tupoúhlý nebo pravoúhlý:

