

3. JAK SE ŽILO VE VRCHOLNÉM STŘEDOVĚKU

Téhož roku (1333) byl s velkými pracemi a náklady dokončen na Zbraslavi vodovod s olověnými rourami; a voda sebraná ze tří pramenů byla dovedena až do umývárny, kde vytéká; celkem má od prvního pramene délku 2600 loket pražské míry. Olova se při tom dle spotřebovalo dvě stě centů a cínu deset. Úhrn vynaložených peněz je 160 kop pražských grošů a 20 kop na umývárnu, to vše s pomocí Boží.

(Zbraslavská kronika)

Kde se umývali mniši Zbraslavského kláštera?



Z jakého materiálu bylo vyrobeno potrubí zbraslavského vodovodu?

Které další kláštery na území dnešní České republiky znáte?

1. Doplňte věty o zemědělství ve vrcholném středověku. Obrázky vám napovědí.



a) Zemědělci používali k orbě b) Pole vláčeli c) Obilí seli



d) Obilí žali e) K mlácení obilí používali f) Vymláčené obilí se mlelo na

2. Zakroužkujte názvy plodin, které pěstovali v našich zemích středověcí zemědělci, a nakreslete schéma trojpolního hospodaření. Vysvětlete, jaké výhody má oproti dvojpolnímu.

oves

ječmen


brambory

žito

kukuřice

pšenice

hrách



Poznámky:

