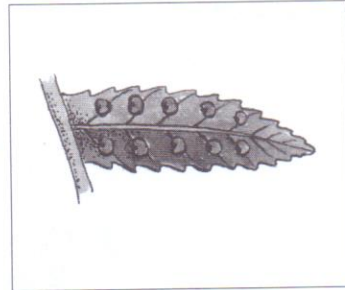




BOTANIKA – NAUKA O ROSTLINÁCH

Plavuně, přesličky, kapradiny

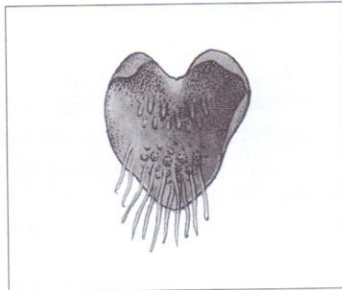
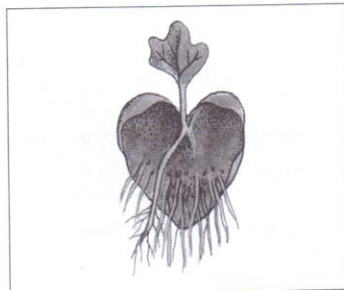
1 Pod rámečky napiš stručnou informaci o příslušné fázi životního cyklu kapradin.



.....

.....

.....



.....

.....

.....

2 Jak se jmenují lodyhy přesličky rolní na obrázcích? Kterou funkci plní?



.....
.....
.....
.....
.....
.....
.....
.....



.....
.....
.....
.....
.....
.....
.....
.....

3 Zkus popsat svými slovy rostlinu, která roste jako epifyt. Uveď příklad některé epifytické rostliny:

.....
.....
.....